

SCHRITT für

1

SCHRITT

Mathematik bewegt

Mathematikbuch für die 1. Klasse VS
und 1. und 2. ASO

Heft 2



Katrin Janca, Ruth Klicpera,

Sabine Ludwig-Szendi, Florentine Paudel

Zahlenaufbau und Rechenoperationen im Zahlenraum 20

Inhalt:

11, 12, 13

11, 12, 13... wir lernen Zahlen kennen

Zählen	Seite 6
Reihenfolge	Seite 10
Zehn +	Seite 15
Zehner und Einer	Seite 18
Ich kann es!	Seite 27
Vergleichen-Mengen	Seite 28
Zahlenstrahl	Seite 29
Nachbarzahlen	Seite 31
Ich kann es!	Seite 35
Analogieaufgaben	Seite 36
Rechnen ohne Überschreitung	Seite 40
Plus Ergänzen	Seite 43
Über den Zehner	Seite 45
Zehnerstopp	Seite 47
Verdoppeln	Seite 50
Verdoppeln +1	Seite 53
Kraft der 5	Seite 54
Gegensinniges Verändern	Seite 56

Inhalt:

11, 12, 13

11, 12, 13... wir lernen Zahlen kennen

Sachaufgaben	Seite 58
Tauschaufgaben mit ZÜ	Seite 59
Ich kann es!	Seite 60
Ergänzen mit ZÜ	Seite 62
Ich kann es!	Seite 65
Zahlenmauern	Seite 66
Minusrechnen im ZR 20	Seite 68
Minus-unter den Zehner	Seite 71
Gerade und ungerade Zahlen	Seite 73
Rechenpäckchen	Seite 75
Ich kann es!	Seite 76
Ergänzen Minus	Seite 77
Aufgaben zu minus Ergänzen	Seite 79
Umkehraufgaben im ZR 20	Seite 80
Aufgabenfamilien	Seite 82
Wie kannst du leichter rechnen?	Seite 85
Zahlenrätsel	Seite 87
Malnehmen	Seite 89

Inhalt:

11, 12, 13

11, 12, 13... wir lernen Zahlen kennen

Teilen	Seite 93
Halbieren	Seite 99
Messen	Seite 103
Zahlenraum 100	Seite 106
Ausschneidebogen A1	Seite 110

Zählen



11, 12, 13



Lied: „Zählen und Rechnen“

1



2



3



4



5



1

2

3

4

5

6

7

8

9

10

11

12

13



7







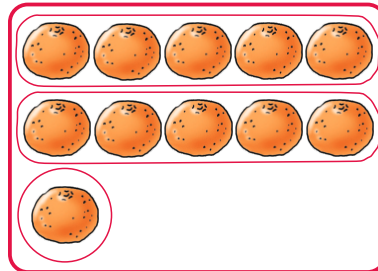
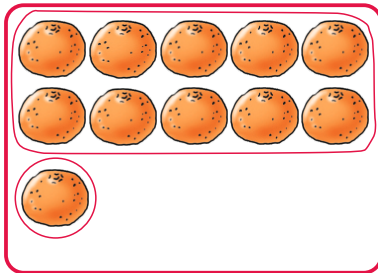
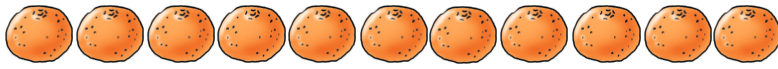
8



9

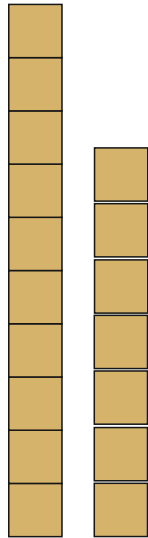


Ordne und zähle!
Wie zählst du?



7

17



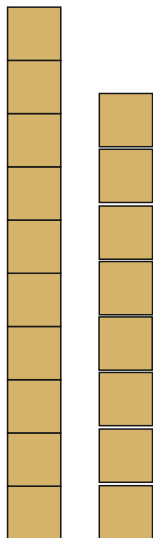
Zehner	Einer

Z	E

—

8

18



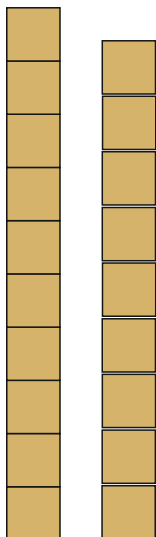
Zehner	Einer

Z	E

—

9

19



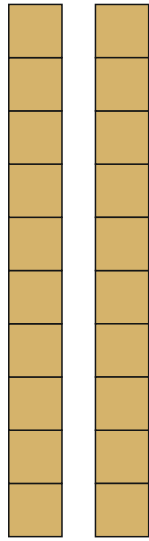
Zehner	Einer

Z	E

—

10

20



Zehner	Einer

Z	E

—




1

Zehner 

Einer 



2

1x 

10



3

3x 

10+3

13





Findest du Malaufgaben zu den Bildern?




Schreibe in dein Lerntagebuch!



Kannst du Oskar helfen? Kreise immer 10 Würfel ein!



Wie viele Würfel sind das?




Z	E

Es sind ____ Würfel.



Wie viele Würfel sind das?




Z	E

Es sind ____ Würfel.



Wie viele Würfel sind das?



Z	E

Es sind ____ Würfel.