

Auftragskarte

Arbeiten mit der Kartei:

- Wähle eine Karteikarte aus und arbeite im Heft!
- Hake auf der Liste ab, welche Karteikarte du schon gemacht hast!
- Lass dein Heft kontrollieren!

Arbeiten mit dem Material:

- Wähle ein Arbeitsmaterial aus (Domino, Setzleiste, ...) und lies den Auftrag genau durch!
- Arbeite mit einem Partner/einer Partnerin oder alleine!
- Schreibe im Heft!
- Hake auf der Liste ab, welches Material du schon gemacht hast!
- Lass dein Heft kontrollieren!



K 1

Legen und Rechnen

 Lege die Rechnung nach und berechne dann das Ergebnis!

$11 - 1 = \underline{\quad}$

$22 - 2 = \underline{\quad}$

$22 - 1 = \underline{\quad}$

$13 - 2 = \underline{\quad}$

$13 - 1 = \underline{\quad}$

$21 - 0 = \underline{\quad}$

© Verlag Lernen mit Pfiff, Wien. Hofmann/Pacher: Mathelade 1 – Subtrahieren im Zahlenraum 30



K 2

Legen und Rechnen

 Lege die Rechnung nach und berechne dann das Ergebnis!

$28 - 5 = \underline{\quad}$

$24 - 2 = \underline{\quad}$

$23 - 2 = \underline{\quad}$

$14 - 3 = \underline{\quad}$

$13 - 3 = \underline{\quad}$

$24 - 1 = \underline{\quad}$

© Verlag Lernen mit Pfiff, Wien. Hofmann/Pacher: Mathelade 1 – Subtrahieren im Zahlenraum 30



Blitzrechnen

Blitzrechnen

☞ Rechne blitzschnell im Kopf!

$11 - 0$	$12 - 1$
$11 - 1$	$12 - 2$
$12 - 0$	$13 - 0$

© Verlag Lernen mit Pfiff, Wien. Hofmann/Pacher: Mathelade 1 – Subtrahieren im Zahlenraum 30

Blitzrechnen

Blitzrechnen









☞ Rechne blitzschnell im Kopf!

$13 - 1$	$14 - 0$
$13 - 2$	$14 - 1$
$13 - 3$	$14 - 2$



























© Verlag Lernen mit Pfiff, Wien. Hofmann/Pacher: Mathelade 1 – Subtrahieren im Zahlenraum 30

Domino

🧐 Finde die beiden Rechnungen mit dem gleichen Ergebnis!

		$10 - 0$	$12 - 2$	$29 - 8$
	$25 - 4$	$14 - 2$	$17 - 5$	$24 - 1$
	$26 - 3$	$19 - 5$	$18 - 4$	$27 - 2$
	$26 - 1$	$17 - 1$	$18 - 2$	$19 - 4$
	$18 - 3$	$28 - 0$	$29 - 1$	$19 - 0$
	$20 - 1$	$20 - 0$	$29 - 9$	

Quartino

	$26 - 4$ 	$30 - 8$ 	$30 - 5$ 	$25 - 0$ 
	22	$23 - 1$ 	$27 - 2$ 	$28 - 3$ 
	$21 - 0$ 	$25 - 4$ 	$26 - 2$ 	$29 - 5$ 
	21	$24 - 3$ 	$30 - 6$ 	$27 - 3$ 
	$26 - 6$ 	$23 - 3$ 	$28 - 5$ 	$25 - 2$ 
	20	$29 - 9$ 	$24 - 1$ 	$29 - 6$ 