

## Auftragskarte

### **Arbeiten mit der Kartei:**

- ➔ Wähle eine Karteikarte aus und arbeite im Heft!
- ➔ Hake auf der Liste ab, welche Karteikarte du schon gemacht hast!
- ➔ Lass dein Heft kontrollieren!

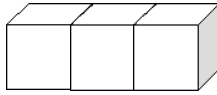
### **Arbeiten mit dem Material:**

- ➔ Wähle ein Arbeitsmaterial aus (Domino, Setzleiste, ...) und lies den Auftrag genau durch!
- ➔ Arbeite mit einem Partner/einer Partnerin oder alleine!
- ➔ Schreibe im Heft!
- ➔ Hake auf der Liste ab, welches Material du schon gemacht hast!
- ➔ Lass dein Heft kontrollieren!

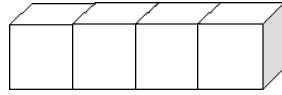


# Legen und Zählen

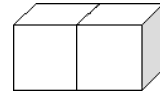
 Lege die Anzahl der Würfel nach und schreibe die Zahl dazu!



3



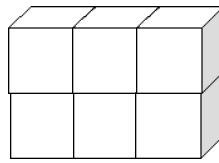
\_\_\_\_\_



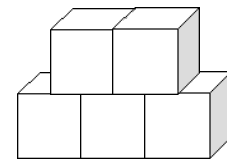
\_\_\_\_\_



\_\_\_\_\_



\_\_\_\_\_



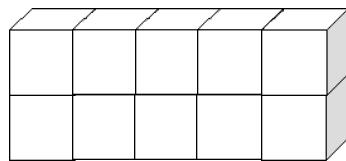
\_\_\_\_\_

© Verlag Lernen mit Pfiff, Wien. Hofmann/Pacher: Mathelade – Mengenauffassung und Zahlbilder bis 10

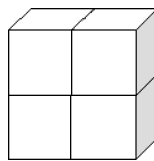


# Legen und Zählen

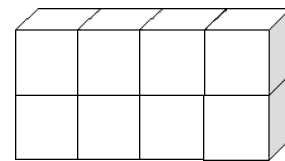
 Lege die Anzahl der Würfel nach und schreibe die Zahl dazu!



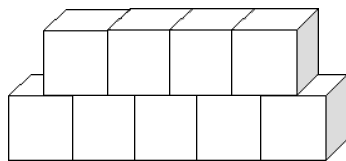
10



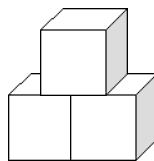
\_\_\_\_\_



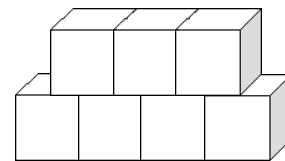
\_\_\_\_\_



\_\_\_\_\_



\_\_\_\_\_









\_\_\_\_\_

© Verlag Lernen mit Pfiff, Wien. Hofmann/Pacher: Mathelade – Mengenauffassung und Zahlbilder bis 10




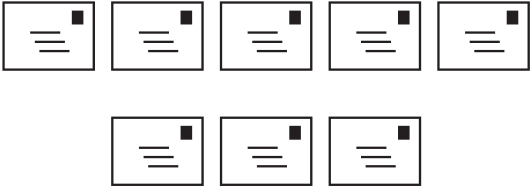


# Zahlauffassung

☞ Erkenne die Anzahl!



















# Zahlauffassung

☞ Erkenne die Anzahl!

# Domino

👁️ Finde zu jeder Zahl die passenden Punkte!

			0	
	1		2	
	3		4	
	5		6	
	7		8	
	9		10	



	 <b>3</b>	 <b>3</b>	 <b>6</b>	 <b>6</b>
	 <b>3</b>	 <b>3</b>	 <b>6</b>	 <b>6</b>
	 <b>2</b>	 <b>2</b>	 <b>5</b>	 <b>5</b>
	 <b>2</b>	 <b>2</b>	 <b>5</b>	 <b>5</b>
	 <b>1</b>	 <b>1</b>	 <b>4</b>	 <b>4</b>
	 <b>1</b>	 <b>1</b>	 <b>4</b>	 <b>4</b>
				