

Auftragskarte

Arbeiten mit der Kartei:


- Wähle eine Karteikarte aus und arbeite im Heft!
- Hake auf der Liste ab, welche Karteikarte du schon gemacht hast!
- Lass dein Heft kontrollieren!

Arbeiten mit dem Material:

- Wähle ein Arbeitsmaterial aus (Domino, Setzleiste, ...) und lies den Auftrag genau durch!
- Arbeite mit einem Partner/einer Partnerin oder alleine!
- Schreibe im Heft!
- Hake auf der Liste ab, welches Material du schon gemacht hast!
- Lass dein Heft kontrollieren!

Legen und Rechnen

 Lege die Rechnung mit Würfeln nach und berechne das Ergebnis!



$1 + 1 = \underline{\quad}$

$2 + 2 = \underline{\quad}$

$2 + 1 = \underline{\quad}$

$2 + 3 = \underline{\quad}$

$1 + 3 = \underline{\quad}$

$1 + 5 = \underline{\quad}$



Legen und Rechnen

 Lege die Rechnung mit Würfeln nach und berechne das Ergebnis!



$3 + 1 = \underline{\quad}$

$4 + 2 = \underline{\quad}$

$3 + 2 = \underline{\quad}$

$4 + 3 = \underline{\quad}$

$3 + 3 = \underline{\quad}$

$1 + 4 = \underline{\quad}$

Blitzrechnen

Blitzrechnen

 Rechne blitzschnell im Kopf!

$1 + 1$	$1 + 2$
$1 + 3$	$1 + 4$
$1 + 5$	$1 + 6$

© Verlag Lernen mit Pfiff, Wien. Hofmann/Pacher: Mathelade – Addieren bis 10

Blitzrechnen

Blitzrechnen

 Rechne blitzschnell im Kopf!












$1 + 7$	$1 + 8$
$1 + 9$	$2 + 1$
$2 + 2$	$2 + 3$

© Verlag Lernen mit Pfiff, Wien. Hofmann/Pacher: Mathelade – Addieren bis 10























































Domino

Domino

 Finde die beiden Rechnungen mit dem gleichen Ergebnis!

		$0 + 1$	$1 + 0$	$2 + 0$
	$0 + 2$	$2 + 1$	$1 + 2$	$1 + 3$
	$3 + 1$	$2 + 3$	$3 + 2$	$4 + 2$
	$2 + 4$	$3 + 4$	$4 + 3$	$5 + 3$
	$3 + 5$	$6 + 3$	$3 + 6$	$7 + 3$
	$3 + 7$	$0 + 0$	$0 + 0$	
		© Verlag Lernen mit Pfiff, Wien. Hofmann/Pacher: Mathelade – Addieren bis 10		

Quartino

  1×0  5×2	 5×2  1×0	 9×1  8×2	 8×2  9×1
  1×6  4×3	 4×3  1×6	 3×1  4×9	 4×9  3×1
  6×0  4×2	 4×2  6×0	 4×0  2×2	 2×2  4×0
  1×5  3×3	 3×3  1×5	 1×3  4×0	 4×0  1×3
  5×0  3×2	 3×2  5×0	 8×0  9×2	 9×2  8×0
  1×4  4×1	 4×1  1×4	 1×7  5×3	 5×3  1×7
